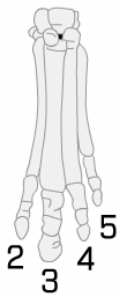




テーマ：「長い年月をかけた動物の変化」

名前：

■演習 生息環境の変化と体の変化の関係

○ウマの足の変化

年代	5500 万年前	2400 万年前	170 万年前～現代
前足の骨格			
生育環境			

5500 万年前の環境の特徴
【環境： 】

170 万年前の環境の特徴
【環境： 】

① 足の指の本数が減ることで、どのような変化が起きたか書きなさい。

② なぜ、変化しなければならなかったのか、書きなさい。

他の人の意見で参考になった意見

■検討 ヒトに見られる遺伝形質（親から子に遺伝する特徴）

部位・特徴	対立形質（2つ以上）		

<自己評価>

原因を推測しながら積極的に考えられたか
高 A B C 低
ウマの体に変化した理由を理解できたか
良 A B C 悪

感想